

درجة الطالب:
الدرجة الكلية: 15

مدرسة الأجيال للتعليم الأساسي (1-4)

الاختبار القصير الأول

المادة: دراسات اجتماعية

الاسم

الصف

أولاً : التذكر والفهم والتطبيق (8 درجات)

س1- (مستوى التذكر) أكمل العبارات الآتية (أربع درجات)

أ - من عناصر الخريطة مقياس الرسم و..... و.....

ب - تجاور سلطنة عُمان ثلاث دول هي السعودية و..... و.....

س2 (مستوى الفهم) اختر الإجابة الصحيحة من بين البدائل (درجتان)

أ- معلم أثري تاريخي كان يسكن بها الجنود قديماً هي :-

1-القلعة 2-الحصن 3-المسجد

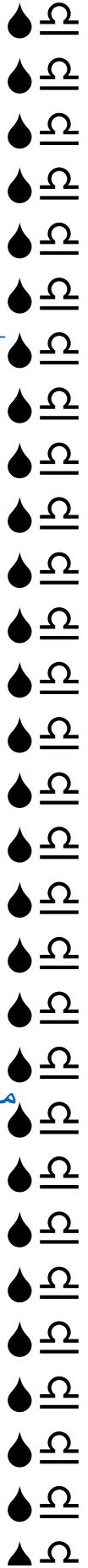
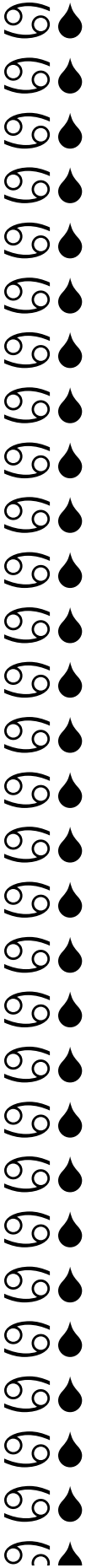

ب - بيوت أثرية متراسة على سفوح الجبال وضاف الوديان تتميز

بالنوافذ والأبواب الزخرفة يسكنها عامة الشعب هي :-

1-الشارع 2-الحارة 3-النهر

س3- (مستوى التطبيق) انظر إلى الخريطة التي أمامك وأكمل (درجتان)





- أ- بحر.....
- ب -الخليج.....
- ج- دولة.....
- د- دولة.....

ثانيًا المستويات العليا: (سبع درجات)

س1- مستوى التحليل (درجتان)

قارن بين استخدامات المسجد قديمًا وحديثًا ؟

..... قديمًا

..... حديثًا

س2 – مستوى التركيب (درجتان)

من خلال دراستك للحصن أجب عمّا يلي :-

أ – مما يتكون الحصن ؟

.....

ب – مَنْ كان يسكن بالحصن ؟

.....

س3 – مستوى التقويم (ثلاث درجات)

من وجهة نظرك ، هل كان للقلاع والحصون دورًا قديمًا وضح ذلك؟

.....

.....

انتهت الأسئلة مع تمنياتي بالنجاح والتفوق

